


MATEMATIKA – 7. URA: DELI CELOTE

Nakoge prepisi v zvezek.

1. a) Pobarvaj tretjino traku.




b) Pobarvaj šestino traku.



2. Z ulomkom zapiši kolikšen del je pobarvan modro.



\_\_\_\_\_

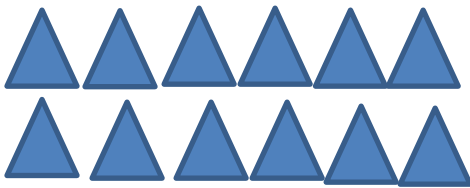


\_\_\_\_\_

3. Pobarvaj eno polovico.

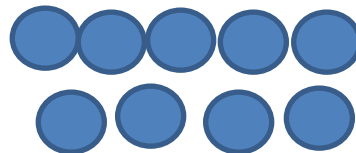


4. Obkroži **ČETRTINO**. Zapiši z ulomkom.



Ulomek: \_\_\_\_\_

Obkroži **TRETJINO**. Zapiši z ulomkom.



Ulomek: \_\_\_\_\_

5. V vrtnariji so imeli 36 tulipanov, 50 nageljnov in 12 gerber. Janez je za svojo ženo kupil  $\frac{1}{6}$  tulipanov in  $\frac{1}{5}$  nageljnov. Koliko rož je kupil Janez?

Račun: \_\_\_\_\_ Račun: \_\_\_\_\_

Račun: \_\_\_\_\_ Odgovor: \_\_\_\_\_